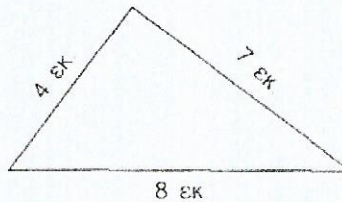






Λύση :

4. Να βρεις την περίμετρο των παρακάτω σχημάτων:

Περίμετρος:..... περίμετρος:..... περίμετρος:.....



5. Να μετρήσεις με το χάρακα σου τις πλευρές των παρακάτω σχημάτων



και να βρεις την περίμετρο τους:

6. Ο Παύλος έφτιαξε τα παρακάτω σχήματα με σύρμα. Για ποιο σχήμα χρειάστηκε περισσότερο σχοίμα και γιατί;

